

| | |
|-------------------------|-------------------------------------|
| Nom – Prénom – Classe : | Evaluation sur le chapitre 3 |
|-------------------------|-------------------------------------|

Exercice 1 : Définition (3 points)

- 1) Donner les 3 critères permettant de dire si deux être vivants font partie de la même espèce

.....

.....

.....

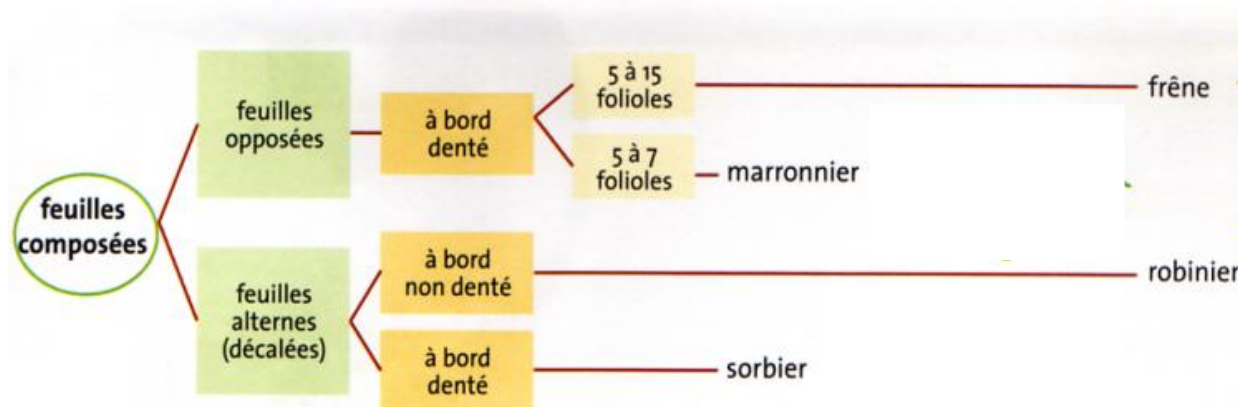
.....

.....

Exercice 2 : Vrai/Faux (3 points) Indiquer si les affirmations suivantes sont vraies (V) ou fausses (F).

- Deux individus interféconds appartiennent **toujours** à la même espèce. ()
- Un attribut est un caractère qui permet d'identifier un être vivant. ()
- Un être vivant fertile est capable de produire une descendance. ()

Exercice 3 : Identifier l'espèce grâce à la clé d'identification ci-dessous (1 points)

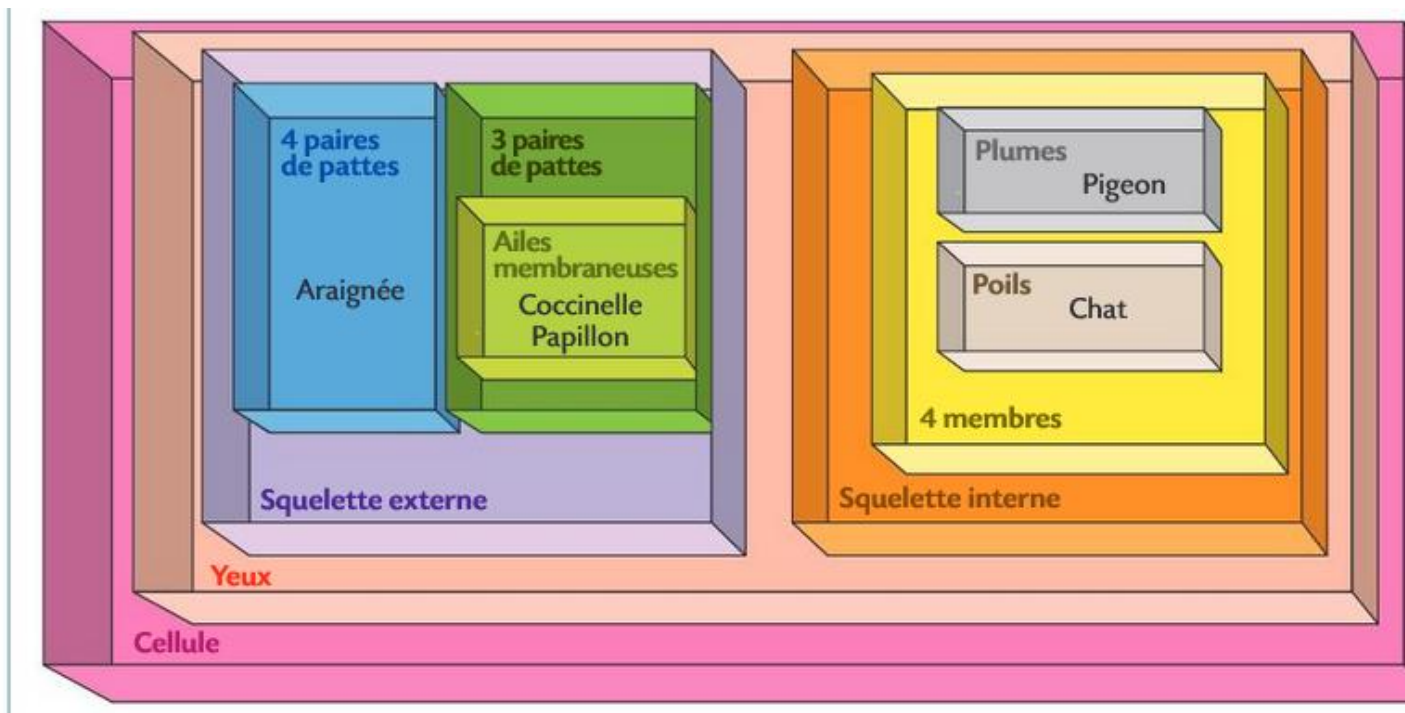


Clé de détermination de 3 espèces de feuillus



Réponse : Je suis un :

Exercice 4 : Lire une classification emboîtée (3 points)




1) Donner tous les attributs que possèdent le chat.

.....

.....

.....

2) Ecrire le nom de ces animaux dans la bonne boîte : LE CHIEN et LA GUÊPE



GUÊPE

3) Bonus : A quelle **famille** ou à **quelle classe** appartient le chat ?

.....

Pour info : Règne → Embranchement → Classe → Ordre → Famille → Genre → Espèce